

第 31 次 2021-6-9 (三) → 的題目

1. 4 公斤的舊報紙可以賣 35.4 元，平均 1 公斤的舊報紙可賣得幾元？

2. 把相同大小的數連起來。

0.8 •  $\frac{29}{50}$

0.75 •  $2\frac{9}{20}$

2.45 •  $\frac{6}{25}$

0.24 •  $\frac{4}{5}$

0.58 •  $\frac{3}{4}$

3. 媽媽買了一個  $y$  元的包包和一件 1080 元的衣服，一共付了 2530 元，一個包包多少元？依照題意列出等式，再算算看。

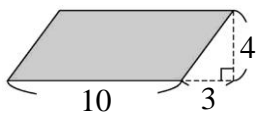
4. 一箱飲料有  $x$  瓶，平分給 15 個人，每個人分到 3 瓶，一箱飲料有幾瓶？依題意列出等式，再算算看。

5. 暑假返校時，五年六班全班 41 人當中，缺席 7 人，五年六班學生的缺席率是多少？(用分數表示)

6. 農場運送 180 個雞蛋到市場，途中打破了 9 個，打破的雞蛋占全部雞蛋的百分率是多少？

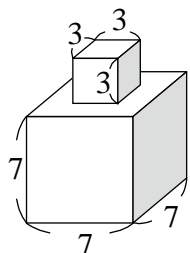
7. 青青草莓園今天採收了 0.92 公噸的草莓，昨天採收了 680 公斤的草莓，今天比昨天多採收了多少公噸的草莓？

8. 鋪色部分的面積是多少公畝？



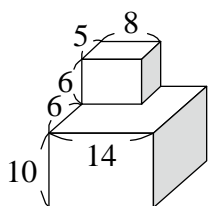
(單位：公尺)

9.(40) 下面形體的表面積是多少？



(單位：公分)

10.(41) 下面形體的表面積是多少平方公分？



(單位：公分)